

IL MIO  
QUADERNO

DI

GEOGRAFIA

MARTINA

1<sup>a</sup> C

AS-2020-2021

BARLETTA · 3 · OTTOBRE  
2020 · SABATO · ☺  
IO · SONO · MARTINA  
IL · MIO · CORPO · OCCUPA  
UNO · SPAZIO · . . .



SPAZIO PER GIOCARE



... SPAZIO PER CORRERE



... SPAZIO PER VIAGGIARE



SPAZIO PER GIOCARE



... SPAZIO PER CORRERE



... SPAZIO PER VIAGGIARE



BARLETTA · 08 · OTTOBRE  
2020 · GIOVEDÌ

PER MUOVERMI NELLO  
SPAZIO DEVO

CONOSCERE · ALCUNE

PAROLE

SOPRA

SOTTO

DENTRO

FUORI

IN · ALTO

IN · BASSO

AVANTI

DIETRO

VICINO

LONTANO

DESTRA

SINISTRA

APERTO


CHIUSO

DI FRONTE DI SPALLE

BARLETTA · 17 · OTTOBRE  
2020 · SABATO **SOPRA**

**SOPRA**

◉ COLORA CIÒ CHE STA SOPRA.



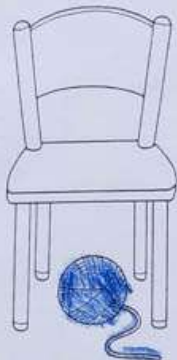
SOTTO

NUMERO

COGNOME


SOTTO

○ COLORA CIÒ CHE STA SOTTO.




BENVA

DISEGNA UNA FARFALLA  
SOPRA UN FIORE




DISEGNA UNA PALLA  
SOTTO UN BANCO




BARLETTA 24 OTTOBRE  
2020 SABATO

# LE FOGLIE

COLORA

 LE FOGLIE SOPRA

 LE FOGLIE SOTTO

 LE FOGLIE



VOLANO VIA



# DAVANTI

## DAVANTI

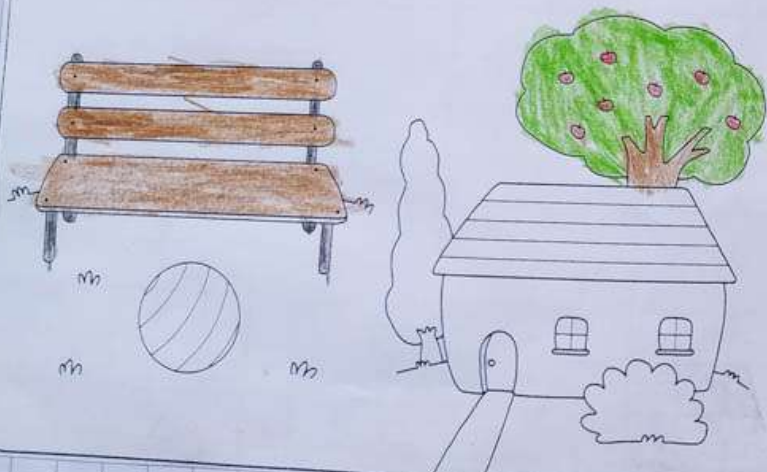
○ COLORA L'OGGETTO POSTO DAVANTI.




DIETRO

DIETRO

○ COLORA L'OGGETTO POSTO DIETRO.



DISEGNA UNA MELA  
DAVANTI AD UN PIATTO



DISEGNA ALCUNE  
MONTAGNE DIETRO  
UNA CASA





## VICINO - LONTANO


○ COLORA IL CANE VICINO ALLA CUCCIA.



○ COLORA IL BAMBINO LONTANO DAL MARE.



○ COLORA L'AUTOMOBILE LONTANA DAL SEMAFORO.



## DISEGNA UN FIORE

## VICINO AD UN FUNGO



## DISEGNA UN ALBERO

## LONTANO DA UN BAMBINO



## VICINO - LONTANO

○ COLORA IL CANE VICINO ALLA CUCCIA.



○ COLORA IL BAMBINO LONTANO DAL MARE.




○ COLORA L'AUTOMOBILE LONTANA DAL SEMAFORO.



DISEGNA UN FIORE

VICINO AD UN FUNGO




DISEGNA UN ALBERO


LONTANO DA UN BAMBINO



BARLETTA · 12 · NOVEMBRE  
2020 · GIOVEDÌ



DI SEGNA · DUE · API  
VICINO · AD · UN · FIORE  
E · TRE · FARFALLE  
LONTANO




BARLETTA · 26 · NOVEMBRE

2020 · GIOVEDÌ · ✨

UTILIZZA · LE · PAROLE  
DELLO · SPAZIO:

DAVANTI · DIETRO


SOTTO · SOPRA



LE · NUVOLE  
SONO DAVANTI  
AL · SOLE



LA · MONTAGNA  
È DIETRO LA  
CASA



IL · FIORE · È  
SOTTO IL  
SOLE



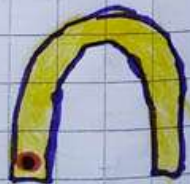

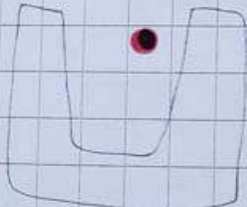
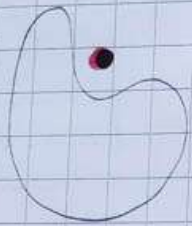
LA · NUVOLA  
È SOPRA  
L'ALBERO

ok!

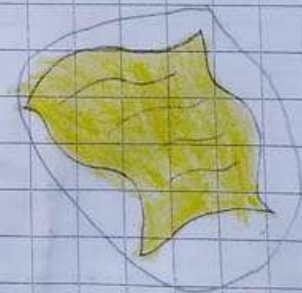


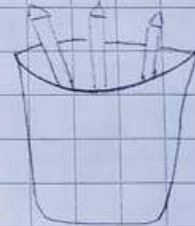
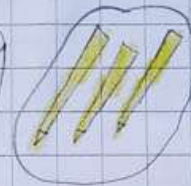
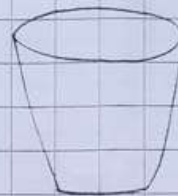
# DENTRO-FUORI

COLORA I RECINTI IN  
CUI IL PALLINO È

## DENTRO




COLORA GLI ELEMENTI  
CHE SONO FUORI



*Bravo!!!*


SINISTRA-DESTRA



BARLETTA · 4 · DICEMBRE

## DESTRA, SINISTRA

- \* SU UN FOGLIO APPOGGIA LA MANO SINISTRA E DISEGNA IL CONTERNO. FAI LO STESSO CON LA MANO DESTRA. SE HAI DIFFICOLTÀ, FATTI AIUTARE DA UN COMPAGNO. POI COLORA IN ROSSO LA MANO DESTRA E IN BLU LA MANO SINISTRA.
- \* COLORA GLI OGGETTI CHE VENGONO INDICATI DA TANIA E DA LEONARDO.



QUALI OGGETTI  
CI SONO ALLA MIA  
SINISTRA?

QUALI OGGETTI  
CI SONO ALLA MIA  
DESTRA?

A DESTRA O A SINISTRA?



TOMMY HA LO ZAINO

A SINISTRA

TOMMY HA LO MACCHINA


A DESTRA

L'ALBERO È A  
SINISTRA DI TOMMY



EVA HA LA PALLA

A DESTRA

BARLETTA 11 DICEMBRE  
2020 VENERDI   
COLORA DI BLU GLI  
OGGETTI A DESTRA  
DI ROSSO QUELLI A  
SINISTRA DELLA LINEA



colore

QUANTI OGGETTI SONO  
A SINISTRA ?

TRE

QUANTI SONO A DESTRA?

QUATTRO



PER L'8 GENNAIO

### GLI INDICATORI TOPOLOGICI

\* CHI STA PARLANDO? SCRIVI IL NUMERO. *E ectoPA*



- SOPRA DI ME ABITA UN RAGNO E SOTTO UN GATTO. (4)
- SE GUARDI LA CASA VEDRAI LA MIA FINESTRA A DESTRA, SOTTO QUELLA DEL PICCHIO. (6)
- IO INVECE ABITO A SINISTRA E SOPRA DI ME NON ABITA NESSUNO. (1)
- LA MIA CASA È SOTTO QUELLA DELLA FARFALLA E DI FIANCO A QUELLA DEL GATTO. (5)

*Barbora*

BARLETTA 7 GENNAIO

2021 - GIOVEDÌ

LO SPAZIO INTORNO A NOI

LA GEOGRAFIA CI PARLA DELLO SPAZIO, CIOÈ LUOGHI E AMBIENTI CHE SI TROVANO SULLA TERRA.

LO SPAZIO CHE CI CIRCONDA CORRISPONDE ANCHE AI LUOGHI IN CUI VIVIAMO.

-LA NOSTRA CASA

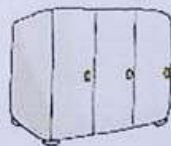
- LA NOSTRA SCUOLA
- LA NOSTRA CITTÀ
- LE VIE IN CUI PASSEGGIAMO
- LA CAMPAGNA, IL MARE, LA MONTAGNA



## UNO SPAZIO ARREDATO: L'AULA



🕒 Osserva i disegni e rispondi.



Come si chiama?

ARMADIO

A che cosa serve?

CONSERVARE

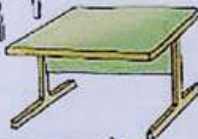
MATERIALE  
SCOLASTICO



SEDIA

PER

SEDERCI



BANCO

PER APPOGG-

GIARE GLI

OGGETTI

PER



LAVAGNA

SCRIVERE



CESTINO

GETTARE LE

CARTE



O.A. - Individuare gli elementi costitutivi dello spazio vissuto e scoprirne le funzioni.



## GLI AMBIENTI DELLA SCUOLA

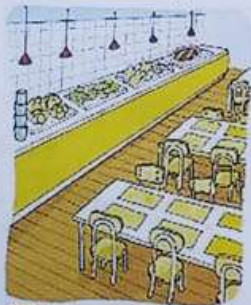
④ Osserva i diversi ambienti della scuola e completa scrivendo le loro funzioni.



Le aule servono per STUDIARE




La biblioteca serve per LEGGERE I LIBRI



La MENSA serve per CONSUMARE I PASTI



La PALESTRA serve per FARE ATTIVITÀ MOTORIA



L'aula multimediale serve per FARE INFORMATICA



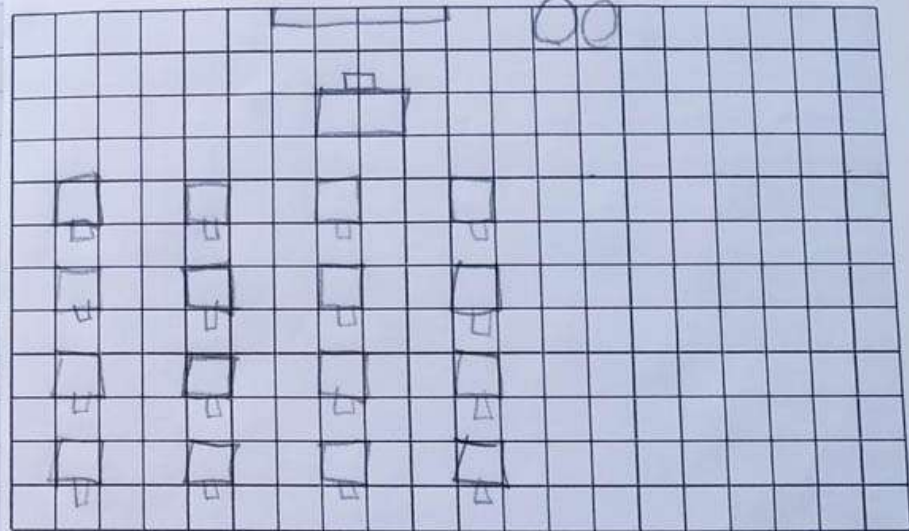
O.A. - Conoscere gli ambienti della scuola e le loro funzioni.

BARLETTA 14 GENNAIO  
2021 GIOVEDÌ

## LA PIANTA DELL'AULA



Questo è il pavimento della tua aula visto dall'alto.



Questi sono gli arredi della tua aula visti dall'alto.



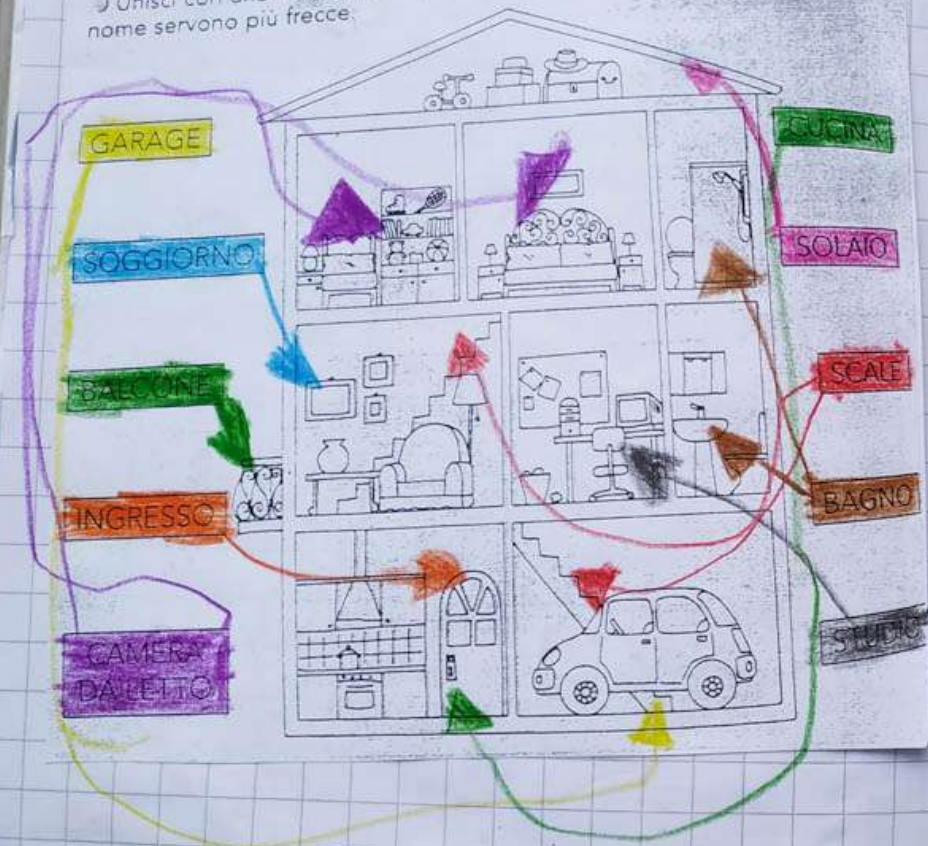
④ Inserisci le "impronte" degli arredi nella pianta dell'aula, prestando attenzione a sistemarli nella posizione giusta.



BARLETTA 22 GENNAIO  
2021 VENERDI

## LA CASA E I SUOI SPAZI

Unisci con una freccia nomi e spazi. Fai attenzione: per qualche nome servono più frecce.

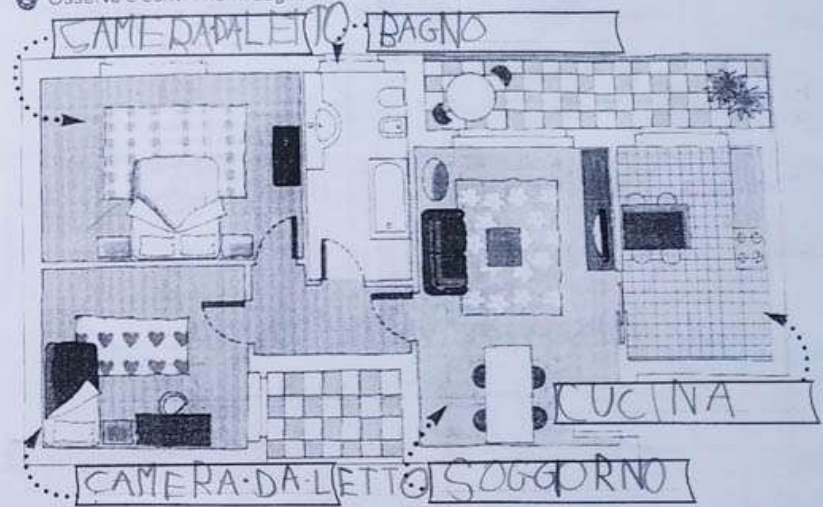


COMPLETA



## GLI AMBIENTI DELLA CASA

1 Osserva e scrivi i nomi degli ambienti della casa



2 Ora inserisci ciascun arredo nel proprio ambiente tracciando delle frecce.



3 Individua gli elementi costitutivi dello spazio vissuto

BARLETTA 28 GENNAIO

2021 GIOVEDÌ

COMPLETA SEGUENDO

LE INDICAZIONI



Alwa! ♥

BARLETTA 4 FEBBRAIO

2021 GIOVEDÌ

## GLI SPAZI DELLA CASA

❶ A che cosa serve ogni spazio?  
Scrivi i numeri corrispondenti in ogni quadratino.

SERVE PER:

1 DORMIRE



4 LAVARSI




2 PRANZARE



5 STARE CON  
GLI AMICI



3 CUCINARE



UN AMBIENTE FAMILIARE  
RE: DISEGNALATVA CASA

BARLETTA 18 FEBBRAIO  
2021 GIOVEDÌ

### DI FRONTE E DALL'ALTO

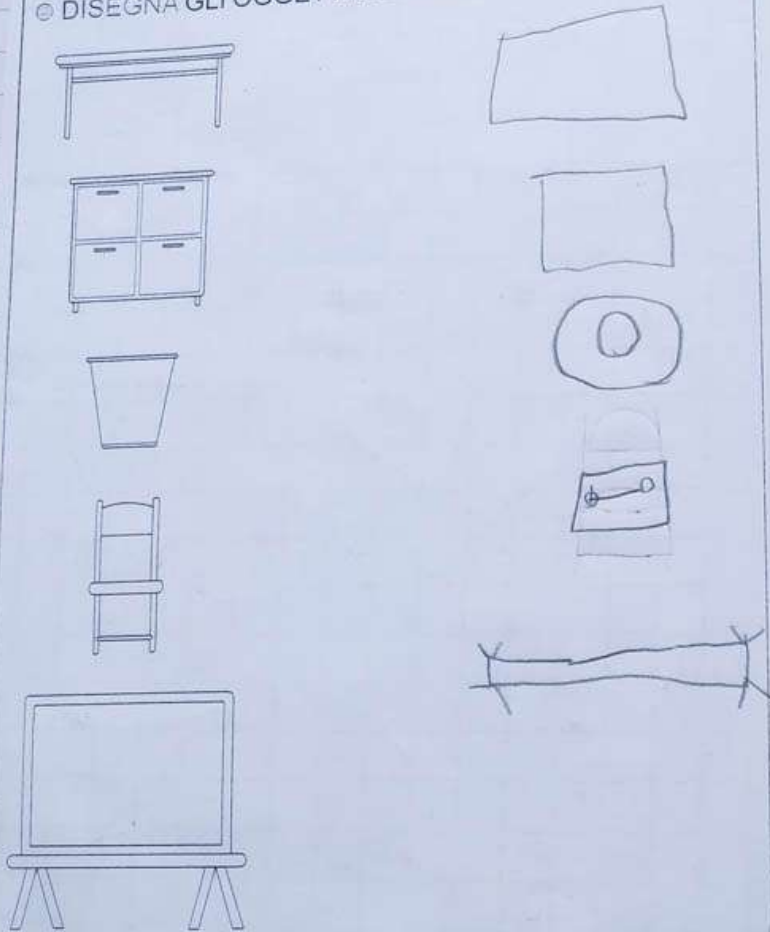
○ COLLEGA CON UNA FRECCIA LO STESSO  
OGGETTO VISTO DI FRONTE E VISTO DALL'ALTO.



*Bellissimo!*

LA MIA AULA VISTA DALL'ALTO

© DISEGNA GLI OGGETTI DELL'AULA VISTI DALL'ALTO.



Barletta - 4 - Marzo - 2021

Giovedì

MI MUOVO NELLO SPAZIO ESTERNO



SCRIVI IL NOME DELLE  
STRADE CHE PERCORRE  
POLDO PER TORNARE A  
CASA

PER TORNARE A CASA  
POLDO ATTRAVERSA:

1 VIA NERI

2 VIA ROSI

3 VIA REA

Completa

ok!

### I PERCORSI (1)

1 COLORA LA STRADA CHE DOVRÀ PERCORRERE LO  
SCOIATTOLO PER RAGGIUNGERE LE NOCCIOLINE.



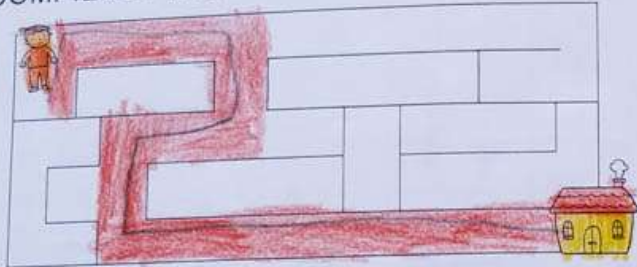
2 COLORA LA STRADA CHE DOVRÀ PERCORRERE  
IL CONIGLIO PER RAGGIUNGERE LE CAROTE.



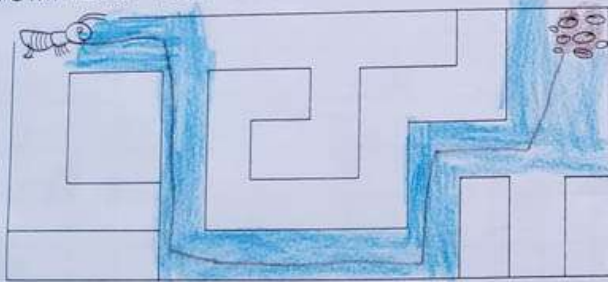


## I PERCORSI (2)

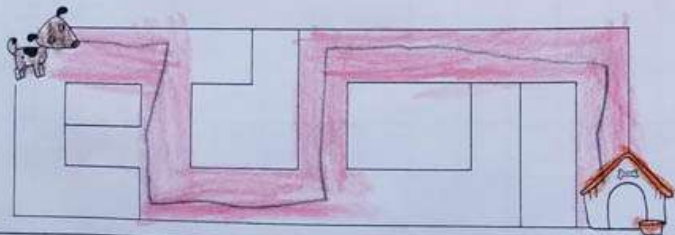
- 1 COLORA IL PERCORSO CHE ROBERTO DEVE COMPIERE PER RAGGIUNGERE LA SCUOLA.





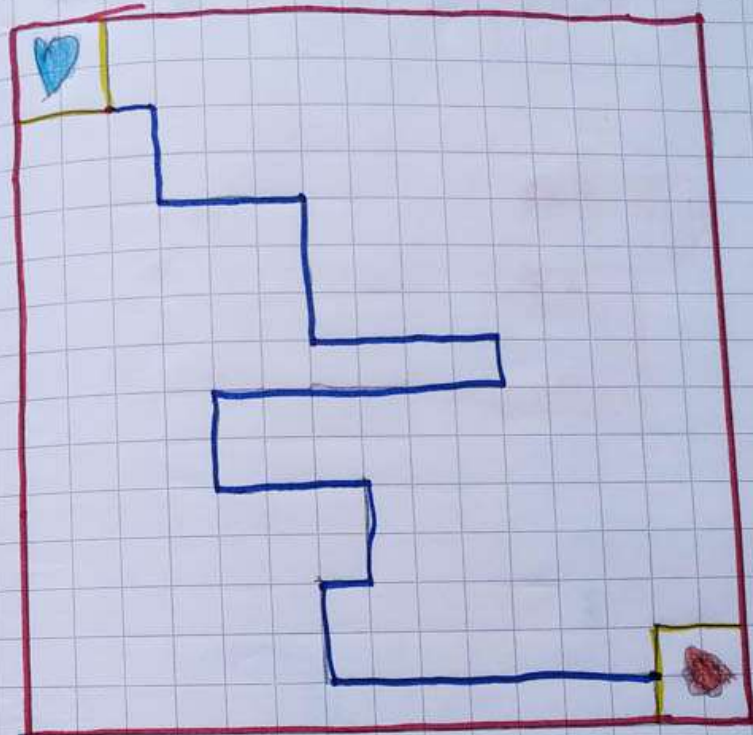
- 2 COLORA IL PERCORSO CHE LA FORMICA DEVE COMPIERE PER RAGGIUNGERE I SEMINI.





- 3 COLORA IL PERCORSO CHE IL CANE DEVE COMPIERE PER RAGGIUNGERE LA CUCCIA.



Disegna il percorso che collega il  al 



Scrivo il percorso che collega il  al 

1 →

2 ↓

3 →

3 ↓

4 →

1 ↓

6 ←

2 ↓

3 →



2 ↓

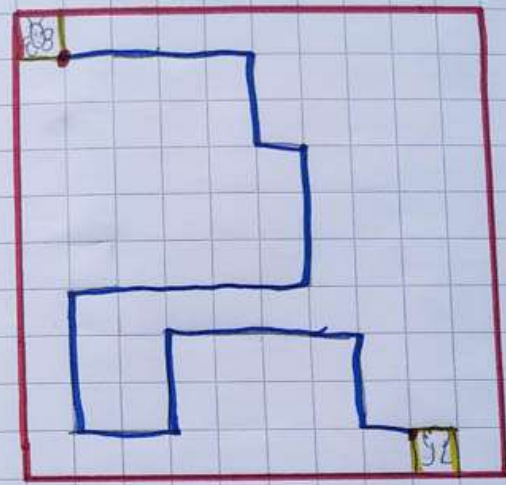
1 ←

2 ↓

7 →

disegna un quadrato di 10x10

traccia il percorso che collega l'albero  alla farfalla  poi scrivilo.



4 →

2 ↓

1 →

3 ↓

5 ←

3 ↓

2 →

2 ↑

4 →

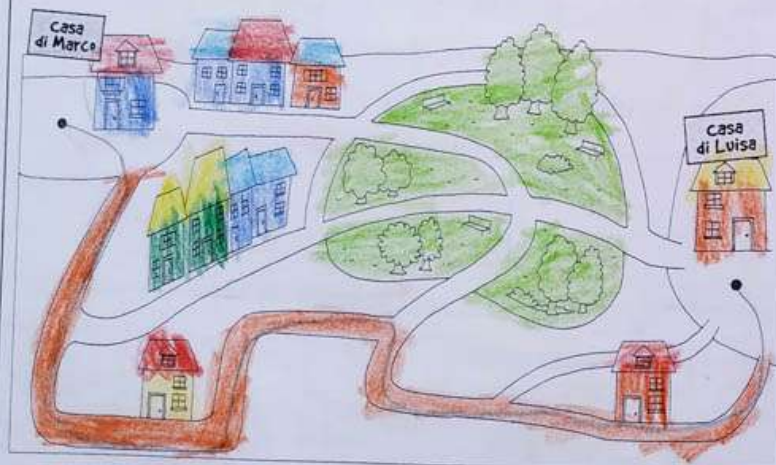
2 ↓

1 →

Traccia il percorso che compie la tartaruga per arrivare all'insalata.



Traccia il percorso dalla casa di Marco alla casa di Luisa senza passare dal parco.





## TUTTI A CASA

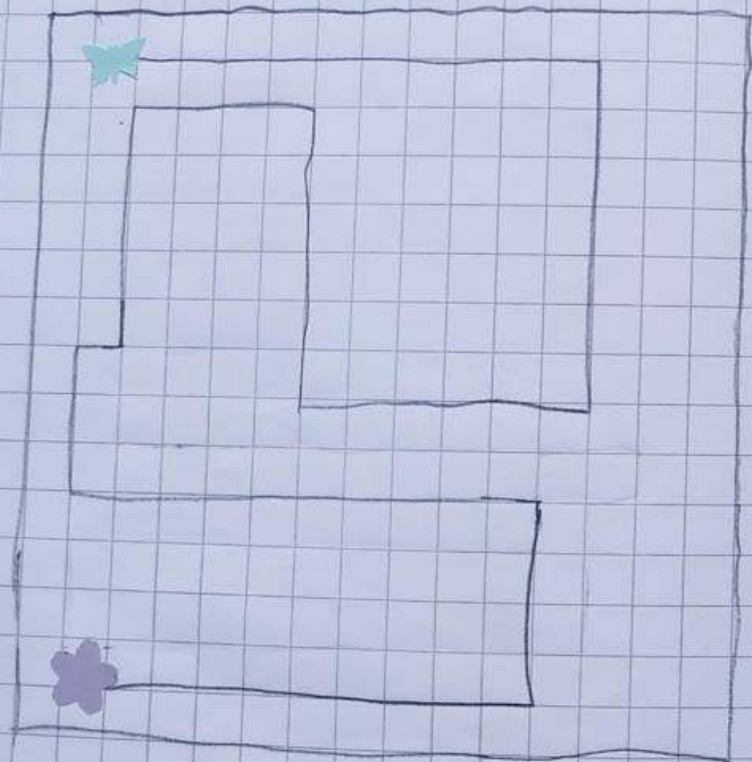
LEGGI LA POESIA E TRACCIA CON COLORI DIVERSI IL PERCORSO DI OGNI PERSONAGGIO.

QUANDO È INVERNO  
QUANDO È INVERNO E, LIEVE LIEVE,  
SCENDE SOFFICE LA NEVE  
CORRE IN CASA OGNI BAMBINO  
E NELLA STALLA IL CAVALLINO;  
NELLA CUCCIA SCAPPA IL CANE,  
NELLO STAGNO VAN LE RANE.



Barletta 8 aprile 2021 Giovedì ☀

Realizza e scrivi il  
percorso che compie la   
per raggiungere il 



10 →

7 ↓

6 ←

6 ↑

4 ←

5 ↓

2 ←

3 ↓

10 →

4 ↓

9 ←

*Eccellente!*  
♡

## STARE BENE INSIEME A SCUOLA

↳ Osserva.

Quali comportamenti ti sembrano corretti? Colora i quadratini in verde.  
Quali comportamenti ti sembrano scorretti? Colora i quadratini in rosso.  
Motiva le tue risposte.



## LE REGOLE A SCUOLA

A SCUOLA

NON

- SI SPINGE
- CI SI DONDOLA
- SI FANNO LE BOCACCE
- SI LANCIA LO ZAINO


Bianchetti - 15 Aprile 2021

giovedì

# IL RETICOLO

IL RETICOLO È UN  
INSIEME DI LINEE:

- ORIZZONTALI
- VERTICALI



QUESTE LINEE INCROCIAN-  
DO SI FORMANO DELLE  
CASSELLE CIOÈ SPAZI IN

CUI POTER INSERIRE  
DISEGNI IMMAGINI OG-  
GETTI.



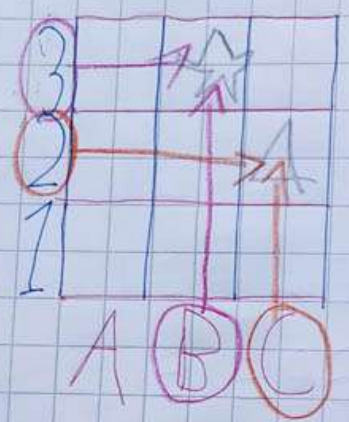
PER DESCRIVERE LA LORO  
POSIZIONE NEL RETICOLO  
USIAMO **LETTERE** E NUMERI



A B C

OGGETTO SI TROVA  
NELLA CASELLA IN CUI  
SI INCONTRANO LA LETTERA  
E IL NUMERO

ESEMPIO



LA STELLA SI TROVA  
NELLA CASELLA B3.  
IL TRIANGOLO SI TROVA  
NELLA CASELLA C2.

E SI SCRIVE COSÌ:

$X = B3$

$\Delta = C2$

RICORDA

QUANDO LE LETTERE E I  
NUMERI SI INCONTRANO  
COME B3 - C2 SI CHIAMANO  
COORDINATE

Barletta - 22 Aprile 2021 - giovedì

# OGGI È LA GIORNATA DELLA TERRA

Realizza un reticolo 3x3  
e disegna gli oggetti seguendo le  
indicazioni.

• Fiore (A,3)

• Matita (C,2)

• Cuore (B,2)

• Sole (C,1)

• Libro (B,3)

• Mano (B,1)

• Stella (A,1)

• Albero (C,3)



















• Pesce (A,2)





Barletta 29 Aprile 2021 giovedì ☀

• Osserva il reticolo e scrivi cosa si trova nelle caselle indicate.

	A	B	C	D	E	F	G
1							
2							
3							
4							
5							
6							
7							

A-1 = ghianda	G-7 = aereo	G-1 = gelato
C-3 = camion	E-1 = lampadina	C-6 = occhiali
E-4 = elicottero	C-5 = pesce	F-5 = oca
E-6 = bici	D-5 = pala	D-7 = sole
F-2 = gatto	D-4 = farfalla	C-1 = macchina
A-6 = treno	G-4 = cane	G-5 = cappello
B-3 = fiore	A-7 = elefante	D-2 = stella

Barletta - 13 Maggio 2012 - giovedì



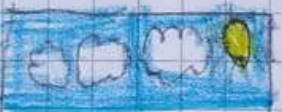
GLI AMBIENTI



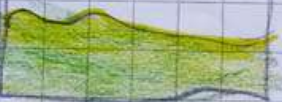
FIUME



MONTAGNA



COLLINA



MARE

Questi sono Ambienti naturali cioè  
creati dalla natura.

Molto spesso però l'uomo modifica  
il territorio e aggiunge elementi che  
chiamiamo **ANTROPICI**.

# IL MARE E LA MONTAGNA LA CAMPAGNA E LA CITA'

Osserva attentamente i due paesaggi, poi inserisci nella tabella i nomi degli elementi naturali e antropici (costruiti dall'uomo).



ELEMENTI NATURALI	ELEMENTI ANTROPICI
Mare	Bar
Sabbia	Ombrellone
Conchiglie	Barca
Sole	Giocchi
Gabbiani	Barbetta

ELEMENTI NATURALI	ELEMENTI ANTROPICI
Montagne	Baite
Animali	Funivia
Alberi	Segnale
Funghi	Corrente
Rocce	elettrica



Osserva attentamente i due paesaggi, poi inserisci nella tabella i nomi degli elementi naturali e antropici (costruiti dall'uomo).



ELEMENTI NATURALI	ELEMENTI ANTROPICI
fieno	trattore
Alberi	fattoria
tratto	sebio
La tuga	Paia
Campagna	Stacciate

ELEMENTI NATURALI	ELEMENTI ANTROPICI
Nobchi soli	Bar
elementi naturali.	Auto
	Palazzi
	semaforo
	Segnali



Barletta 27 Maggio 2021 giovedì

## I COLORI DEI PAESAGGI NATURALI

Il paesaggio naturale è costituito solo da elementi naturali.

Utilizza i colori della natura per dipingere questo paesaggio usando i suggerimenti in fondo alla pagina.



Ricorda:

- marrone scuro sono le montagne
- marrone chiaro le colline
- verde la pianura
- blu o azzurro il corso d'acqua
- verde scuro i boschi


2 GIUGNO  
FESTA DELLA  
REPUBBLICA ITALIANA

Buon Compleanno ITALIA!

Il 2 Giugno si ricorda la nascita  
della Repubblica avvenuta nel lontano

2 Giugno 1946


Quest'anno la nostra Nazione ha  
compiuto 75 anni



VERIFICA FINALE

MARTA PIAZZOLA

🕒 Osserva il disegno e rispondi.



- CHE COSA C'È SOPRA LE COSTRUZIONI? IL TRENO  
 CHE COSA C'È TRA L'ASTRONAVE E LA MOTO? LA BARCA  
 CHE COSA C'È A DESTRA DEL TRENINO? LA BAMBOLA  
 CHE COSA C'È IN ALTO A DESTRA? L'ORSETO  
 CHE COSA C'È IN BASSO A SINISTRA? LA MACCHININA  
 CHE COSA C'È SOTTO LA MOTO? IL DRAGO  
 CHE COSA C'È LONTANO DAL DRAGO? LA MACCHINA

ok

🕒 Disegna gli oggetti al posto giusto.


3				
2				
1				
	A	B	C	D

ok!

- B,1    C,2    A,2    D,3

# MARTINA RIAZZOLLA

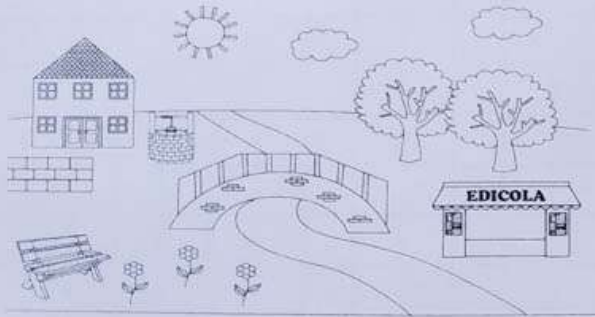
Colora le REGIONI INTERNE e ripassa in blu i CONFINI.



ok!

Osserva l'immagine e completa la tabella

### ELEMENTI NATURALI E ANTROPICI



ELEMENTI NATURALI	ELEMENTI ANTROPICI
SOL E	POZZO
FIORI	PANTE
ALBERI	EDICOLA
FIUME	CASA
CIELO	MURO
PRATO	PANCHINA

Bravissima Martina! Sei stata una meraviglia per l'intero anno!! Mi raccomando continua sempre così. ♡ ♡ F.C.